



زمان برگزاری:

نام و نام خانوادگی:

نام آزمون: اجتماعی پایه پنجم دبستان

تاریخ آزمون:

۱ هلاکو چه سلسله‌ای را تأسیس کرد؟

۲ چرا حضرت علی (ع) بعد از بیعت افراد با ابوبکر سکوت کردند؟

۳ امام علی (ع) چگونه به خلافت رسیدند؟

۴ چه کسی امام علی (ع) را به شهادت رساند؟

۵ چرا کشور عراق آثار باستانی زیادی دارد؟

۶ ایرانیان چگونه مسلمان شدند؟

۷ حضرت امام حسین (ع) دلیل قیام خود را چه می‌دانستند؟

۸ پایتخت کشور عراق شهر است.

۹ گزینه‌ی صحیح را انتخاب کنید.

درست نادرست

۱ مهم‌ترین محصول کشاورزی عراق خرما است.

۲ کشور عراق از تولید و صادرات نفت درآمد زیادی دارد.

۳ زبان مردم عراق اردو است.

۴ حکومت صدام در سال ۱۳۵۸ به کشور ما حمله کرد.

۵ تمدن‌های شهر سوخته، آکد، سومر در بین‌النهرین به‌وجود آمدند.

۶ بین‌النهرین به‌معنای بین دو رود سند و سفیدرود است.

۷ در دو شهر موصل و کرکوک چاه نفت وجود ندارد.

۱۰ برای جابه‌جا کردن مردم و کالاها از مکانی به مکان دیگر لازم است.

۱۱ مهم‌ترین صنایع مادر در کشور ما صنایع ذوب آهن، و صنایع ماشین‌سازی است.

۱۲ نمونه‌هایی از مصرف نادرست آب را بیان کنید. (۴ مورد)

۱۳ بیشترین رودهای ایران از رشته‌کوه‌های بلند البرز و زاگرس و یا داخلی سرچشمه می‌گیرند.

۱۴ جمعیت چگونه افزایش می‌یابد؟

۱۵ بر روی خط زمان، موارد زیر را نشان دهید.

شروع حمله‌ی تیمور به ایران - لشکرکشی هلاکوخان به ایران - مرگ چنگیز

۱۶ ایرانیان چه تأثیراتی بر جانشینان چنگیز و تیمور گذاشتند؟ توضیح دهید.

۱۷ پس از اینکه چنگیز از ماجرای قتل بازرگانان مطلع شد از سلطان محمد چه درخواستی کرد و سلطان محمد چه کرد؟


۱۸ بهانه‌ی لشکرکشی چنگیز به ایران چه بود؟

۱۹ مردم ایران در مقابل حکومت مغول‌ها چه کردند؟

۲۰ در زمان خوارزمشاهیان همسایه‌ی شرقی ایران که بود و چگونه سرزمینی بود؟

۲۱ در کدام دوره زبان فارسی مورد توجه قرار گرفت؟






۲۲ عکس زیر نشان‌دهنده‌ی کدام اثر تاریخی دوره‌ی سلجوقیان است؟

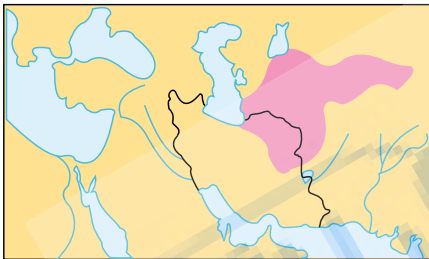


۲۳ ایرانیان پس از ورود اسلام در چه قرن‌ی حکومت‌هایی در ایران تشکیل دادند؟

۲۴ این عکس، مجسمه‌ی کدام شخصیت دوره‌ی صفاریان است؟



۲۵ عکس روبه‌رو، کدام اثر باستانی دوره‌ی سامانی را نشان می‌دهد؟



۲۶ بر روی نقشه پایتخت بخارا را نشان دهید.

۲۷ بر روی خط زمان، حکومت طاهریان و سامانیان را مشخص کنید.

۲۸ سیاه‌جامگان که بودند؟

۲۹ پیامبر در آخرین سفرش به مکه چه کسی را به‌عنوان جانشین معرفی کرد؟ چگونه؟

۳۰ به چهار نفر از خلفایی که پس از پیامبر اکرم (ص) زمامداری مسلمانان را به عهده گرفتند چه می‌گویند؟

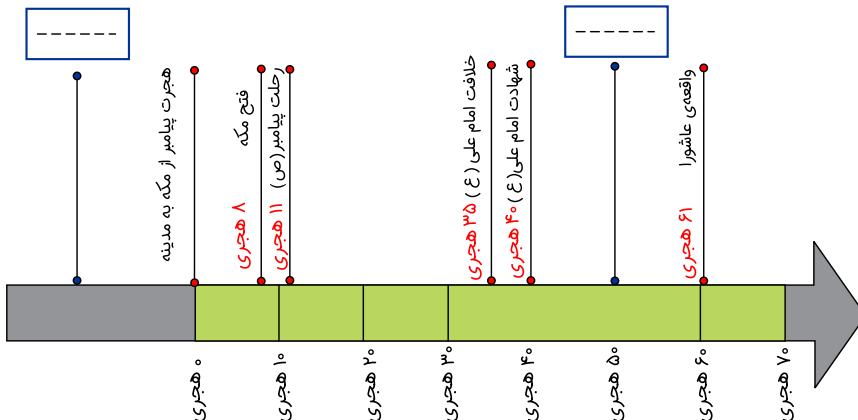
۳۱ حضرت علی (ع) کدام شهر را مرکز خلافت خود قرار داد؟

۳۲ امام علی (ع) پس از چه کسانی به خلافت رسیدند؟

۳۳ دو مورد از نوشته‌های زیر را انتخاب کنید و در خانه‌های خالی قرار دهید.

بعثت پیامبر (ص) شهادت امام حسن (ع)

جنگ صفین



۳۴ چرا مردم عراق در شرایط سختی زندگی می‌کنند؟

۳۵ کدام رود از داخل ایران به اروندرود می‌ریزد؟

۳۶ این عکس کدام اثر تاریخی عراق را نشان می‌دهد؟



۳۷ مکه چگونه توسط پیامبر فتح شد؟

۳۸ ابوسفیان چه زمانی اسلام آورد؟

۳۹ سردسته‌ی مخالفان پیامبر در مکه که بود؟

۴۰ علت جنگ‌های پیامبر چه بود؟

۴۱ حضرت محمد (ص) پس از فتح مکه چه کردند؟

۴۲ غار حرا در کجا قرار دارد؟

۴۳ قبه‌ی ما مسلمانان کجاست؟

۴۴ چرا شیوه‌های مختلف زندگی بر روی سیاره‌ی زمین به وجود آمده است؟

۴۵ در هر ناحیه از کره‌ی زمین انسان‌ها برای رفع نیازهای خود چگونه با یکدیگر ارتباط برقرار می‌کنند؟

۴۶ در گذشته در قاره‌های آمریکا و استرالیا چه کسانی زندگی می‌کردند و این قاره‌ها چگونه به تصرف درآمدند؟

۴۷ کشور ایران و همسایگانش در کدام قاره قرار دارند؟

۴۸ مدار چیست؟

۴۹ کاربرد شبکه‌ی مربعات چیست؟

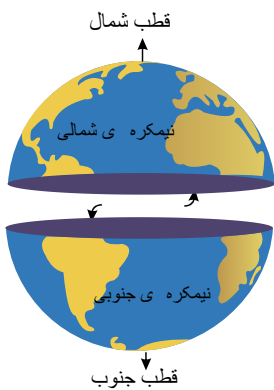
۵۰ شبکه‌ی مربعات چیست؟

۵۱ نصف‌النهار مبدأ زمین را به کدام نیم‌کره‌ها تقسیم می‌کند؟

۵۲ چرا به نصف‌النهار مبدأ گرینویچ هم می‌گویند؟

۵۳ چرا جغرافی‌دانان روی کره‌های جغرافیایی و نقشه‌ها خط‌هایی ترسیم کرده‌اند؟

۵۴ تصویر زیر کدام خط فرضی را نشان می‌دهد؟



۵۵ ترکمنستان در کدام هنرها شهرت جهانی دارد؟



۵۶ این تصویر کدام بنای تاریخی ترکمنستان را نشان می‌دهد؟



۵۷ این تصویر کدام بنای تاریخی جمهوری آذربایجان را نشان می‌دهد؟

۵۸ در کشور ارمنستان چه صنایعی وجود دارد؟

۵۹ چرا ارمنستان بیشتر مواد اولیه‌ی کارخانه‌های خود را از خارج وارد می‌کند؟

۶۰ چرا کشاورزی در جمهوری آذربایجان رواج دارد؟

۶۱ نام رشته‌کوه اصلی آذربایجان چیست؟

۶۲ کدام کشور در میان دو قسمت جمهوری آذربایجان قرار گرفته است؟

۶۳ در نقشه‌ی زیر علامت‌های سؤال را کامل کنید.



۶۴ چرا حکومت به سه قوه تقسیم شده است؟

۶۵ یک کشور چرا به قوانین و مقررات نیاز دارد؟

۶۶ اولین رهبر انقلاب اسلامی که بود و در چه سالی رحلت کردند؟

۶۷ بندر کجاست؟

۶۸ کدام محصول شرایط رشد در استان گیلان را ندارد؟

۶۹ اگر راه یا مسیر نباشد چه می‌شود؟

۷۰ مکان‌ها چگونه به هم وصل می‌شوند؟

اجتماعی پایه پنجم دبستان

۷۱) در نقشه‌ی مقابل نام رود و دریاچه را بنویسید.



۷۲) منبع اصلی رودها کجاست؟

۷۳) جمعیت ایران در سال ۱۳۳۵ و ۱۳۴۵ چه مقدار بود؟

۷۴) جمعیت ایران از سال ۱۳۷۰ تا سال ۱۳۸۵ چه مقدار افزایش یافته است؟

۷۵) اولین گروهی که عضو آن شدیم چه نام دارد؟

۷۶) به گروهی که افراد برای انجام دادن کارها با یکدیگر مشورت می‌کنند چه می‌گویند؟

۷۷) اعضای یک گروه چه عاملی را در گروه در زمان بازی رعایت می‌کنند؟

۷۸) احساس و رفتار و شرایط دیگری را درک کردن تعریف کدام موضوع اجتماعی است؟

۷۹) احساس ترس در چه زمانی است؟

۸۰) در مواجه شدن با چیزهای ترسناک چه کنیم؟

۸۱) چه کارهایی باعث می‌شود کمتر به ناراحتی خود فکر کنیم؟

۸۲) آیا شما در ارتباط با دیگران، حریم شخصی آنها را رعایت می‌کنید؟ چگونه؟

۸۳) شاهرخ چگونه مردی بود؟

۸۴) به همت همسر شاهرخ، مسجدی در مشهد ساخته شد.

۸۵) چرا حاکمان ترک تبار از وزیران ایرانی استفاده می‌کردند؟

۸۶) سلطان محمود پس از حمله به هند چه کرد؟

۸۷) ترکان چه حکومت‌هایی را در ایران به وجود آوردند؟

۸۸) یکی از وزیران مشهور سلجوقیان بود.

۸۹) کدام حکومت‌های ایرانی در قرن سوم هجری به زبان فارسی اهمیت می‌دادند؟

۹۰) ایرانیان در اوایل قرن سوم هجری به تدریج در بخش‌های مختلف حکومت‌هایی تشکیل دادند.

۹۱) بنی‌عبّاس با تبلیغات زیاد طرفدارانی در میان پیدا کرده بودند.

۹۲) عراق همسایه‌ی ایران است.

۹۳) کربلا در کشور قرار دارد.

۹۴) تمدن آشور، سومر، آکد در به وجود آمدند.

۹۵) چهار مورد از فعالیت‌هایی که در زمان پیامبر (ص) در مسجد انجام می‌شد را نام ببرید.

۹۶) مبدأ تاریخ مسلمانان است.

۹۷) نام دیگر یثرب است.

۹۸) غار حرا در نزدیکی شهر قرار دارد.

۹۹) پوشش گیاهی و جانوری نواحی بیابانی چگونه است؟

- ۱۰۰ اسکیموها غذای خود را از چه طریقی به دست می آورند؟
- ۱۰۱ مردمی که در جنگل‌های استوایی زندگی می کنند، به چه فعالیت‌هایی مشغول هستند؟
- ۱۰۲ عبارت‌های زیر را تعریف کنید.
- «قاره - اقیانوس»
- ۱۰۳ پوشش گیاهی در جنگل‌های استوایی، درختان است.
- ۱۰۴ ایران در قاره‌ی قرار دارد.
- ۱۰۵ به خشکی‌های وسیع میان آب‌های کره‌ی زمین می گویند.
- ۱۰۶ به حرکت زمین به دور خورشید می گویند.
- ۱۰۷ زمین یکی از سیاره‌های است.
- ۱۰۸ با حرکت چرخشی به وجود می آید.
- ۱۰۹ به حرکت زمین به دور خود، حرکت می گویند.
- ۱۱۰ چهار مورد از مهم‌ترین تولیدات کشور ترکمنستان را نام ببرید.
- ۱۱۱ از محصولات عمده‌ی کشور پاکستان سه مورد را نام ببرید.
- ۱۱۲ همسایگان شمالی و شرقی ایران را نام ببرید.
- ۱۱۳ رود گورا به دریاچه‌ی می ریزد.
- ۱۱۴ بخش بزرگتر جمهوری آذربایجان در کنار قرار گرفته است.
- ۱۱۵ ایران با کشور همسایه است.
- ۱۱۶ ویژگی‌های رهبر جمهوری اسلامی ایران را بنویسید.
- ۱۱۷ گزینه‌ی صحیح را انتخاب کنید.

درست نادرست

-
-
-
-

- ۱) حکومت ایران حکومت جمهوری اسلامی ایران است.
- ۲) قانون مدنی هر کشور مهم‌ترین قانون هر کشور است.
- ۳) قوه‌ی قضائیه وظیفه‌ی قانون‌گذاری را بر عهده دارد.
- ۴) حکومت برای آنکه بتواند وظایف خود را به خوبی انجام دهد به سه قوه تقسیم شده است.
- ۱۱۸ مهم‌ترین قانون هر کشور قانون آن کشور است.
- ۱۱۹ رهبر جامعه‌ی اسلامی باید نمونه‌ی یک کامل باشد.
- ۱۲۰ اجرای قوانین و تأمین وسایل رفاه و آسایش مردم و پیشرفت کشور وظیفه‌ی قوه‌ی است.
- ۱۲۱ هواپیما برای حمل چه کالاهایی مناسب است؟ چرا؟
- ۱۲۲ مزایا و معایب حمل‌ونقل آبی چیست؟
- ۱۲۳ هواپیما برای حمل مسافر و کالاهای بسیار مناسب است.
- ۱۲۴ بخش عمده‌ای از صادرات و واردات کشور ما از طریق صورت می گیرد.
- ۱۲۵ به کسی که قطار را هدایت می کند می گویند.
- ۱۲۶ صادرات، واردات و بازرگانی را تعریف کنید.
- ۱۲۷ محصولات صادراتی به استان گیلان کدام موارد است؟
- ۱۲۸ صنایع پتروشیمی برای تولیدات خود از چه موادی استفاده می کنند و چه چیزی تولید می کند؟
- ۱۲۹ در گذشته اغلب مردم چیزهایی را که نیاز داشتند چگونه تولید می کردند؟
- ۱۳۰ چون آب قنات از عبور می کند میزان تبخیر و آلودگی آن بسیار کم است.

۱۳۱) اولین کسانی که با کندن قنات از آب‌های زیرزمینی استفاده کردند، بودند.

۱۳۲) مهاجرت یعنی چه؟

۱۳۳) کدام ناحیه از نواحی ایران بسیار کم جمعیت یا خالی از جمعیت است؟ چرا؟

۱۳۴) جمعیت را تعریف کنید.

۱۳۵) عبارات مناسب را به یکدیگر وصل کنید.

- | | |
|--|--|
| <input type="checkbox"/> جمعیت | <input type="checkbox"/> (۱) رفتن مردم از جایی به جای دیگر برای کار یا زندگی |
| <input type="checkbox"/> ناحیه‌ی کناره‌ی دریای خزر | <input type="checkbox"/> (۲) ناحیه‌ی بسیار کم جمعیت یا خالی از جمعیت |
| <input type="checkbox"/> فروشگاه‌های بزرگ | <input type="checkbox"/> (۳) ناحیه‌ی کم‌وسعت با جمعیت زیاد |
| <input type="checkbox"/> ناحیه‌ی داخلی | <input type="checkbox"/> (۴) از عوامل جذب‌کننده‌ی جمعیت |
| <input type="checkbox"/> مهاجرت | <input type="checkbox"/> (۵) مجموعه‌ی افرادی که در یک جا زندگی می‌کنند |

۱۳۶) در حال حاضر جمعیت کشور ما بیش از میلیون نفر است.

۱۳۷) به مجموعه‌ی افرادی که در یک جا زندگی می‌کنند می‌گویند.

۱۳۸) چگونه با تشکیل شورایی می‌توان جامعه را بهتر اداره کرد؟

۱۳۹) در کدام سوره‌ی قرآن به مشورت کردن سفارش شده است؟

۱۴۰) عبارات مناسب را به یکدیگر وصل کنید.

- | | |
|---|---|
| <input type="checkbox"/> گروه | <input type="checkbox"/> (۱) گروهی از افراد که برای انجام دادن کاری با یکدیگر مشورت می‌کنند. |
| <input type="checkbox"/> | <input type="checkbox"/> (۲) در نیمه‌ی اول آبان، در مدارس ایران برگزار می‌شود. |
| <input type="checkbox"/> نقش‌ها را برحسب استعداد و توانایی‌هایشان برعهده گیرند. | <input type="checkbox"/> (۳) تعدادی از افراد که فعالیت مشترکی دارند و برای رسیدن به هدفی مشترک با هم ارتباط برقرار می‌کنند. |
| <input type="checkbox"/> مختلف | <input type="checkbox"/> (۴) اولین نکته‌ای که اعضای گروه باید به آن توجه کنند. |
| <input type="checkbox"/> انتخابات دانش‌آموزی | <input type="checkbox"/> (۵) هر یک از ما عضو این گروه‌ها هستیم. |
| <input type="checkbox"/> شورا | |

۱۴۱) اعضای یک خانواده برای زندگی کردن با آرامش و آسایش در کنار یکدیگر تلاش و می‌کنند.

۱۴۲) هر یک از ما عضو گروه‌های هستیم.

۱۴۳) گروه از تعدادی افراد تشکیل می‌شود که مشترکی دارند و برای رسیدن به هدفی مشترک با هم ارتباط برقرار می‌کنند.

۱۴۴) وظیفه‌ی سازمان انتقال خون چیست؟

۱۴۵) وظیفه‌ی سازمان هلال‌احمر چیست؟

۱۴۶) عبارات مناسب را به یکدیگر وصل کنید.

- | | |
|--|--|
| <input type="checkbox"/> دوستانه کنار او می‌نشینم. | <input type="checkbox"/> (۱) درک احساسات افراد در موقعیت‌های مختلف |
| <input type="checkbox"/> رساندن غذا، لباس، دارو | <input type="checkbox"/> (۲) از این افراد، سازمان انتقال خون، خون می‌گیرد. |
| <input type="checkbox"/> سازمان انتقال خون | <input type="checkbox"/> (۳) وقتی کسی غمگین است. |
| <input type="checkbox"/> همدلی | <input type="checkbox"/> (۴) یکی از کمک‌های هلال‌احمر به افراد نیازمند |
| <input type="checkbox"/> داوطلبان | <input type="checkbox"/> (۵) وظیفه‌ی انتقال خون به بیمارستان‌ها |

عبارات مناسب را به یکدیگر وصل کنید. ۱۴۷

۱- ترس از صدای مهیب

۲- احساس شادی

۳- ترس از آمپول

۴- دومین مرحله برای مقابله با ترس

۵- علت وجود ترس بجا در جانداران

احساسات خوشایند در ما می گذارند. ۱۴۸

خداوند ترس بجا را برای در وجود جانداران قرار داده است. ۱۴۹

ترس، احساسی و عادی است. ۱۵۰

مقابله با خطر

ترس نابجا

ترس بجا

فکر کنیم ترس ما بجاست یا نه؟

احساس طبیعی

افزایش طبیعتی

پاسخنامه تشریحی

۱ ایلخانان

۲ برای اینکه در میان مسلمانان اختلاف ایجاد نشود سکوت کردند.

۳ پس از کشته شدن عثمان، مسلمانان با خواهش و اصرار از حضرت علی (ع) خواستند که خلافت را بپذیرد و با اشتیاق با حضرت علی (ع) بیعت کردند.

۴ ابن ملجم با ضربه‌ی شمشیر زهر آلود حضرت علی (ع) را به شهادت رساند.

۵ چون در طول هزاران سال تمدن‌های بسیاری مانند سومر، آکد و آشور در سرزمین بین‌النهرین (میان دو رود دجله و فرات) به وجود آمدند.

۶ با ورود عرب‌های مسلمان به ایران، حکومت ساسانیان منقرض شد و مردم ایران هم که از حکومت ساسانی ناراضی بودند با شنیدن پیام‌های دین اسلام به تدریج مسلمان شدند.

۷ امام حسین (ع) فرمودند: من برای زنده نگه داشتن دین اسلام و امر به معروف و نهی از منکر قیام کرده‌ام.

۸ بغداد

۹

پاسخ:

نادرست درست

- ●
- ●
- ○
- ○
- ○
- ○
- ●

۱) مهم‌ترین محصول کشاورزی عراق خرما است.

۲) کشور عراق از تولید و صادرات نفت درآمد زیادی دارد.

۳) زبان مردم عراق اردو است.

۴) حکومت صدام در سال ۱۳۵۸ به کشور ما حمله کرد.

۵) تمدن‌های شهر سوخته، آکد، سومر در بین‌النهرین به وجود آمدند.

۶) بین‌النهرین به معنای بین دو رود سند و سفیدرود است.

۷) در دو شهر موصل و کرکوک چاه نفت وجود ندارد.

بررسی گزینه‌های نادرست:

۳) زبان مردم عراق هریبی است.

۴) حکومت صدام در سال ۱۳۵۹ به ایران حمله کرد.

۵) تمدن‌های سومر، آکد و آشور در سرزمین بین‌النهرین به وجود آمدند.

۶) بین‌النهرین به معنای دو رود (دجله / فرات) است.

۱۰ راه‌ها

۱۱ پتروشیمی

۱۲ ۱- شستن حیاط با فشار آب

۲- باز گذاشتن آب هنگام مسواک زدن

۳- شستن ماشین با آب لوله‌کشی

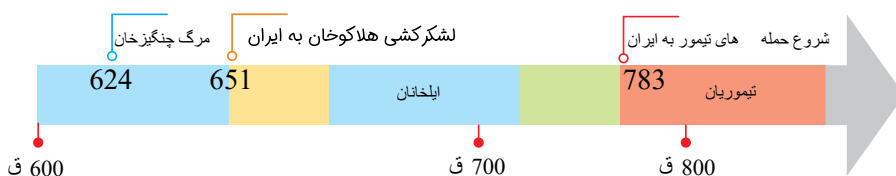
۴- باز گذاشتن آب هنگام استحمام و آواز خواندن

۱۳ کوه‌های پراکنده‌ی

۱۴ اگر تعداد افرادی که متولد می‌شوند از تعداد افرادی که می‌میرند بیشتر باشد، جمعیت افزایش می‌یابد.

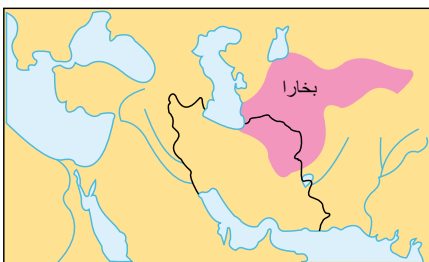
۱۵

پاسخ:

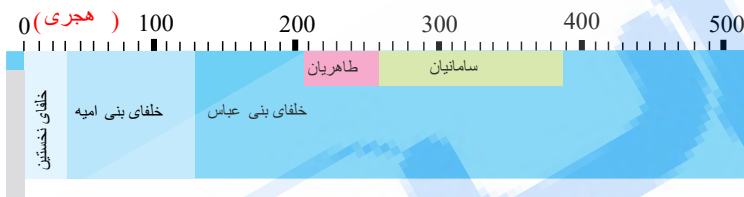


- ۱۶) وزیران ایرانی سعی می‌کردند مغولان را راهنمایی و هدایت کنند و راه و رسم کشورداری را به آن‌ها بیاموزند.
- ۱۷) خواست که غایر خان را به او تحویل دهد اما سلطان محمد از این کار خودداری کرد.
- ۱۸) چنگیز خان مغول که به دنبال بهانه‌ای برای لشکرکشی به ایران می‌گشت، وقتی ماجرای قتل بازرگانان مغول را شنید به ایران حمله کرد.
- ۱۹) مردم مسلمان ایران حکومت مغول‌ها را نمی‌پذیرفتند، به همین دلیل در بعضی از شهرها و روستاهای ایران قیام‌هایی بر ضد حاکمان مغول صورت گرفت.
- ۲۰) در زمان خوارزمشاهیان ایران و شمال چین به نام مغولستان وجود داشت. مغولستان، سرزمینی با آب‌وهوای سرد و خشک بود و قبایل مغول با کمبود غذا روبرو بودند. آنها قبایل بیابان‌گرد بودند و زندگی خود را بیشتر از راه غارت کاروان‌ها یا هجوم سرزمین‌های دیگر می‌گذراندند.
- ۲۱) در دوره‌ی حکومت‌های ترک‌تبار به‌ویژه سلجوقیان زبان و ادب فارسی مورد توجه قرار گرفت و در قلمروی پهناور آنها رواج یافت.
- ۲۲) برج طغرل در شهر ری
- ۲۳) در اوایل قرن سوم هجری
- ۲۴) یعقوب لیث صفاری
- ۲۵) مقبره‌ی امیراسماعیل سامانی، بخارا، کشور ازبکستان.

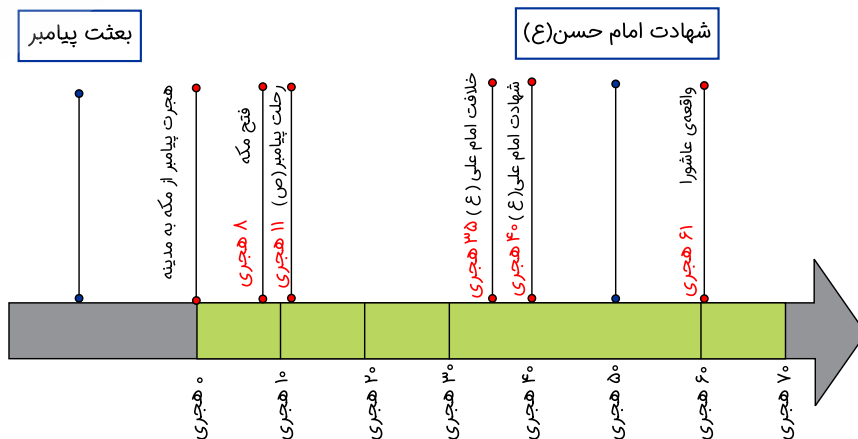
۲۶) پاسخ:



۲۷) پاسخ:



- ۲۸) به پیروان ابومسلم سیاه‌جامگان می‌گفتند.
- ۲۹) در محلی به نام غدیر خم حضرت علی (ع) را به‌عنوان جانشین خود معرفی کرده بود.
- ۳۰) خلفای راشدین یا خلفای نخستین
- ۳۱) شهر کوفه را که در عراق قرار داشت را مرکز خلافت خود قرار داد.
- ۳۲) ابوبکر - عمر - عثمان
- ۳۳)



- ۳۴) به دلیل جنگ‌های داخلی و حضور گروه‌های خارجی در ناامنی به سر می‌برد و وضع اقتصادی و اجتماعی مناسبی ندارند.
- ۳۵) رود کارون
- ۳۶) شهر تاریخی نمرود در نزدیکی موصل

- ۳۷) پیامبر با سپاهی عظیم به طرف مکه حرکت کرد. ابوسفیان که سردسته‌ی مخالفان پیامبر در مکه بود با دیدن لشکر نیرومند اسلام فهمید که مقاومت بی‌نتیجه است و اعلام کرد که مسلمان شده است. به دنبال او مخالفان دیگر نیز تسلیم شدند و به این ترتیب مسلمانان بدون جنگ و خونریزی شهر مکه را فتح کردند.

۴۴) زیرا در هر ناحیه از کره‌ی زمین انسان‌ها برای رفع نیازهای خود به روش خاصی که متناسب با شرایط محیطی آن ناحیه است با یکدیگر ارتباط برقرار می‌کنند.

۴۵) با روش‌های خاصی که متناسب با شرایط محیطی آن ناحیه است.

۴۶) در گذشته‌های دور فقط تعداد کمی از بومیان به‌طور پراکنده در قاره‌های آمریکا و استرالیا زندگی می‌کردند و بعدها که اروپاییان در دریانوردی پیشرفت کردند، با کشتی خود را به سرزمین‌های جدید رساندند و این قاره‌ها را به تصرف درآوردند.

۴۷) قاره‌ی آسیا

۴۸) به خط استوا و خط‌های فرضی که به موازات آن رسم شده‌اند مدار می‌گویند.

۴۹) با استفاده از شبکه‌ی مربعات مکان دقیق هر پدیده را بهتر می‌توانیم تعیین کنیم.

۵۰) نقشه‌ای که خط‌های عمودی و افقی بر روی آن رسم شده باشد را شبکه‌ی مربعات می‌گویند.

۵۱) نصف النهار مبدأ زمین را به دو نیم‌کره‌ی شرقی و غربی تقسیم می‌کند.

۵۲) زیرا از دهکده‌ی گرینویچ در نزدیکی شهر لندن عبور می‌کند و به همین دلیل به آن نصف‌النهار گرینویچ هم می‌گویند.

۵۳) ۱- برای اینکه بتوانند سطح زمین را بهتر مطالعه کنند.

۲- برای اینکه بفهمند هر مکان به‌طور دقیق در کدام قسمت زمین قرار گرفته است.

۵۴) خط استوا که زمین را به دو نیم‌کره‌ی شمالی و جنوبی تقسیم می‌کند.

۵۵) فرش‌بافی، گلیم‌بافی، قلم‌کاری، روی، نقره و طلا

۵۶) کاخ ترکمن‌باشی در عشق‌آباد

۵۷) تصویر کاخ شیروان‌شاهی باکو

۵۸) صنایع الکتریکی، شیمیایی، لاستیک‌سازی

۵۹) چون از نظر منابع معدنی فقیر است.

۶۰) زیرا در نواحی داخلی و شرقی آن جلگه‌های پست آبرفتی قرار دارد.

۶۱) قفقاز رشته کوه اصلی آذربایجان است.

۶۲) ارمنستان در میان دو قسمت جمهوری آذربایجان قرار گرفته است.

۶۳)



۶۴) حکومت برای آنکه بتواند وظایف خود را به‌خوبی انجام دهد به سه قوه تقسیم شده است.

۶۵) برای اداره‌ی یک کشور و تصمیم‌گیری درباره‌ی فعالیت‌های مختلف آن مقررات و قوانینی لازم است.

۶۶) اولین رهبر انقلاب اسلامی امام خمینی (ره) بود که در سال ۱۳۶۸ رحلت یافت.

۶۷) جایی در کنار دریاست که کشتی‌ها در آنجا توقف و بارگیری یا بار خود را تخلیه می‌کنند.

۶۸) خرما - پسته - زعفران

۶۹) کسی نمی‌تواند به مکان مورد نظر خود برسد و دچار مشکلات زیادی برای افراد جامعه می‌شود.

۷۰) به‌وسیله‌ی راه مکان‌ها به هم وصل می‌شوند.

۷۱) پاسخ:

۱- رود اترک

۲- رود ارس

۳- رود گرگان

۴- باتلاق گاوخونی

۵- رود گُز

۶- رود تلخه‌رود

۷- دریاچه‌ی ارومیه

۸- دریاچه‌ی جازموریان

۷۲) منبع اصلی رودها بالای کوه‌ها است که از آب شدن برف‌ها و سرازیر شدن آنها ایجاد می‌شود.

۷۳)

جمعیت ایران در سال ۱۳۳۵ حدود ۱۹ میلیون نفر و در سال ۱۳۴۵ حدود ۲۵٫۵ میلیون نفر بوده است.

۷۴) حدود ۱۰ میلیون افزایش یافته است.

۷۵) خانواده

۷۶) شورا

۷۷) نظم و مقررات

۷۸) همدلی

۷۹) چیزی را نمی‌شناسیم، چیزی را نمی‌بینیم.

۸۰) از خدا و نام او کمک بگیریم.

۸۱) انجام دادن کارهای شاد و سرگرم‌کننده با دیگران

۸۲) بله

هر سؤالی که به من مربوط می‌شود را سؤال می‌کنم و برای حریم شخصی افراد احترام قائل می‌شوم.

۸۳) شاهرخ پسر تیمور، برخلاف پدر خود مردی نیکوکار بود و سعی می‌کرد هر جا را که پدرش ویران کرده بود آباد کند. او دستور داد مدارس و کتابخانه‌های بسیاری بسازند.

۸۴) گوهرشاد

۸۵) حاکمان ترک‌تبار که از اقوام بیابان‌گرد بودند و از کشورداری اطلاع چندانی نداشتند. آنها می‌دانستند که برای اداره‌ی سرزمین پهناور ایران و جمعیت آن باید از افرادی آشنا با کشورداری استفاده کنند. به همین دلیل، وزیران باهوش و خردمند ایرانی را انتخاب کردند.

۸۶) او چند بار به آن سرزمین لشکر کشید در آنجا بت‌خانه‌ها را خراب کرد و گنج‌های فراوانی را به غارت برد و به ایران بازگشت.

۸۷) سلسله‌ی غزنویان، سلجوقیان، خوارزمشاهیان

۸۸) خواجه نظام‌الملک توسی

۸۹) برخی از حکومت‌های ایرانی مانند سامانیان و صفاریان به زبان فارسی اهمیت زیادی می‌دادند و شاعران و دانشمندان را تشویق می‌کردند. رودکی شاعر معروف دوره‌ی سامانیان بود.

۹۰) ایران

۹۱) ایرانیان

۹۲) غربی

۹۳) عراق

۹۴) بین‌النهرین

۹۵) مسجد علاوه بر عبادت و نماز مکانی برای آموزش و تربیت، داوری، حل اختلافات، مشورت و تصمیم‌گیری درباره‌ی مسائل مهم بود.

۹۶) هجرت پیامبر

۹۷) مدینه‌النبی

۹۸) مکه

۹۹) پوشش گیاهی در این نواحی فقیر است و حیواناتی مانند شتر، موش صحرایی و انواع خزندگان در این ناحیه زندگی می‌کنند.

۱۰۰) از طریق شکار

۱۰۱) آنها زندگی خود را از راه شکار و جمع‌آوری میوه‌ها و سبزیجات می‌گذرانند. بعضی از آنها نیز در مزرعه‌های بزرگ کشت موز و نارگیل و آناناس می‌کارند.

۱۰۲) قاره: به خشکی‌های وسیع کره‌ی زمین که در میان آب‌ها قرار گرفته‌اند، قاره گفته می‌شود.

اقیانوس: اقیانوس‌ها چاله‌های بزرگی در سطح زمین هستند که از آب پر شده‌اند.

۱۰۳) پهن‌برگ

۱۰۴) آسیا

۱۰۵) قاره

۱۰۶) حرکت انتقالی

۱۰۷) منظومه‌ی شمسی

۱۰۸) شب و روز

۱۰۹) حرکت چرخشی

۱۱۰) پنبه، میوه، انگور، گندم از مهم‌ترین تولیدات کشور ترکمنستان است.

۱۱۱) برنج، پنبه و کف از محصولات عمده‌ی پاکستان است.

۱۱۲) شمال: ترکمنستان، جمهوری، آذربایجان، ارمنستان

شرق: افغانستان، پاکستان

۱۱۳ مینگه چاو

۱۱۴ دریا

۱۱۵ هفت

۱۱۶ رهبر جامعه‌ی اسلامی باید نمونه‌ی یک مسلمان کامل باشد. او باید عالم عادل و شجاع باشد، از دستورات اسلام پیروی کند و از اوضاع جامعه به‌خوبی آگاه باشد.

۱۱۷

پاسخ:

بررسی گزینه‌ها:		
درست	نادرست	
<input checked="" type="radio"/>	<input type="radio"/>	۱) حکومت ایران حکومت جمهوری اسلامی ایران است.
<input type="radio"/>	<input checked="" type="radio"/>	۲) قانون مدنی هر کشور مهم‌ترین قانون هر کشور است.
<input type="radio"/>	<input checked="" type="radio"/>	۳) قوه‌ی قضائیه وظیفه‌ی قانون گذاری را برعهده دارد.
<input type="radio"/>	<input checked="" type="radio"/>	۴) حکومت برای آنکه بتواند وظایف خود را به خوبی انجام دهد به سه قوی تقسیم شده است.

بررسی گزینه‌های نادرست:

۲) قانون اساسی مهم‌ترین قانون هر کشور است.

۳) قوه‌ی قضائیه بر اجرای درست قوانین نظارت دارد.

۱۱۸ اساسی

۱۱۹ مسلمان

۱۲۰ مجریه

۱۲۱ هواپیما برای حمل مسافر و کالاهای سبک بسیار مناسب است، زیرا سرعت زیادی دارد و مسافت‌های طولانی را در مدت کمی طی می‌کند.

۱۲۲ حمل‌ونقل با کشتی و از راه دریا بسیار ارزان است. کشتی برای حمل کالاهای سنگین بسیار مناسب است ← مزایا / کشتی خیلی آهسته حرکت می‌کند و همه‌ی کشورها به دریا دسترسی ندارند. ← معایب

۱۲۳ سبک

۱۲۴ بندرها

۱۲۵ لوکوموتوران

۱۲۶ صادرات: کالاهایی که در داخل یک ناحیه تولید شده‌اند و برای فروش به جاهای دیگر فرستاده می‌شوند، به این کار صادرات می‌گویند.

واردات: کالاهایی که در خارج از یک ناحیه تولید شده‌اند و برای فروش به آنجا وارد می‌شوند، به این کار واردات می‌گویند.

بازرگانی: به خرید و فروش کالا در داخل یک کشور یا با کشورهای دیگر را بازرگانی می‌گویند.

۱۲۷ نفت، اتومبیل، خرما، پسته

۱۲۸ کارخانه‌های پتروشیمی نفت و گاز را به مواد شیمیایی تبدیل می‌کنند. از این مواد در کارخانه‌های دیگر برای تولید رنگ، چسب، کود شیمیایی، لاستیک و مواد شوینده (پودرهای

لباشویی) استفاده می‌شود.

۱۲۹ در گذشته‌های دور اغلب مردم چیزهایی را که به آن‌ها نیاز داشتند خودشان در خانه یا کارگاه‌های کوچک تولید می‌کردند.

۱۳۰ زیر زمین

۱۳۱ ایرانیان

۱۳۲ مهاجرت یعنی مردم برای زندگی یا کار از جایی به جای دیگر بروند.

۱۳۳ نواحی داخلی ایران - به دلیل بارندگی کم، زمین‌های شور و خاک نامناسب بسیار کم جمعیت یا خالی از جمعیت هستند.

۱۳۴ به مجموعه‌ی افرادی که در یک جا زندگی می‌کنند جمعیت می‌گویند.

۱۳۵ پاسخ:

۱) رفتن مردم از جایی به جای دیگر برای کار یا زندگی ← مهاجرت

۲) ناحیه‌ی بسیار کم جمعیت یا خالی از جمعیت ← ناحیه‌ی داخلی

۳) ناحیه‌ی کم‌وسعت با جمعیت زیاد ← ناحیه‌ی کناره‌ی دریای خزر

۴) از عوامل جذب‌کننده‌ی جمعیت ← فروشگاه‌های بزرگ

۵) مجموعه‌ی افرادی که در یک جا زندگی می‌کنند ← جمعیت

۱۳۶ ۷۵

۱۳۷ جمعیت

۱۳۸ برای حل مشکلات جامعه و تصمیم‌گیری از فکر و تجربه‌ی همه‌ی افراد استفاده می‌شود و در نتیجه، جامعه را می‌توان بهتر اداره کرد.

وامرهم شوری بینهم

۱۴۰

- ۱) گروهی از افراد که برای انجام دادن کاری با یکدیگر مشورت می‌کنند. ← شورا
- ۲) در نیمه‌ی اول آبان، در مدارس ایران برگزار می‌شود. ← انتخابات دانش‌آموزی
- ۳) تعدادی از افراد که فعالیت مشترکی دارند و برای رسیدن به هدفی مشترک با هم ارتباط برقرار می‌کنند. ← گروه
- ۴) اولین نکته‌ای که اعضای گروه باید به آن توجه کنند. ← نقش‌ها را برحسب استعداد و توانایی‌هایشان بر عهده گیرند.
- ۵) هر یک از ما عضو این گروه‌ها هستیم. ← مختلف

۱۴۱ همکاری

۱۴۲ مختلف

۱۴۳ فعالیت

۱۴۴ سازمان انتقال خون ایران، وظیفه‌ی گرفتن خون از داوطلبان و انتقال آن به درمانگاه‌ها و بیمارستان‌ها را بر عهده دارد. گاهی بعضی از بیماران در بیمارستان‌ها به خون نیاز پیدا می‌کنند و افرادی داوطلب می‌شوند که برای کمک به آن‌ها خون خود را اهدا کنند.

۱۴۵ جمعیت هلال‌احمر در حوادثی مانند سیل، زلزله و تصادف‌های رانندگی به مردمی که خانه و وسایل خود را از دست داده‌اند یا مجروح شده‌اند کمک می‌کند و به آن‌ها غذا، لباس و دارو می‌رساند.

۱۴۶

پاسخ:

- ۱) درک احساسات افراد در موقعیت‌های مختلف ← همدلی
- ۲) از این افراد، سازمان انتقال خون، خون می‌گیرد. ← داوطلبان
- ۳) وقتی کسی غمگین است. ← دوستانه کنار او می‌نشینم.
- ۴) یکی از کمک‌های هلال‌احمر به افراد نیازمند ← رساندن غذا، لباس، دارو
- ۵) وظیفه‌ی انتقال خون به بیمارستان‌ها ← سازمان انتقال خون

۱۴۷ پاسخ:

- ۱- ترس از صدای مهیب ← ترس بجا
- ۲- احساس شادی ← احساس طبیعی
- ۳- ترس از آمپول ← ترس نابجا
- ۴- دومین مرحله برای مقابله با ترس ← فکر کنیم ترس ما بجاست یا نه؟
- ۵- علت وجود ترس بجا در جانداران ← مقابله با خطر

۱۴۸ تأثیر خوبی

۱۴۹ مقابله با خطر

۱۵۰ طبیعی