












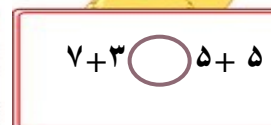



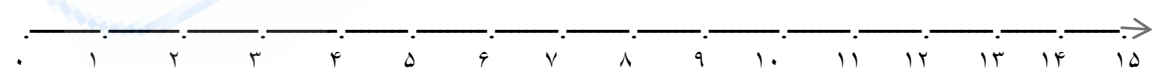
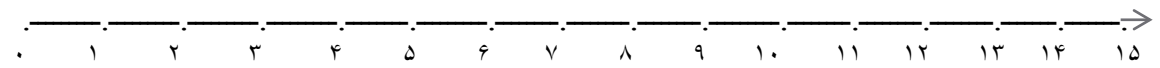
نام و نام خانوادگی :

به نام خدا

نمونه آزمون ریاضی پایه اول


اردیبهشت ماه ۹۱


| | |
|---|----------|
| <p>جاهای خالی را طبق نمونه های داده شده ادامه بده.</p> <p>     </p> | <p>۱</p> |
| <p>جمع های زیر را با استفاده از چوب خط و مداد رنگی حل کن.</p> <p> $4 + 5 + 8 = \dots\dots\dots$  $9 + 3 + 6 = \dots\dots\dots$  </p> | <p>۲</p> |
| <p>علامت مناسب $>$ $=$ $<$ بگذار.</p> <p>         </p> | <p>۳</p> |
| <p>علی ۱۴ جوجه زرد و سیاه خرید. ۵ تا از جوجه ها سیاه و بقیه زرد بودند. تعداد جوجه های زرد را بنویسید. (با شکل هم نشان بده)</p> | |


| | | |
|---|---|---|
| <p>جمع های زیر را انجام بده.</p> <p>$۲۰ + ۱۰ + ۵ + ۵ = \dots\dots\dots$</p> <p>$۲۵ + ۵ + ۵ + ۵ + ۳ = \dots\dots\dots$</p> | <p>$۱۰ + ۵ + ۱۰ + ۱۰ = \dots\dots\dots$</p> <p>$۱۰ + ۲۰ + ۲۰ = \dots\dots\dots$</p> | ۵ |
| <p>محمد ۱۶ مرغ و خروس و جوجه دارد. ۶ تا از آن ها مرغ و ۴ تا خروس هستند. تعداد مرغ و خروس ها چند تا است؟ تعداد جوجه ها چند تا است؟</p> <p>تعداد مرغ و خروس ها</p> <p>تعداد جوجه ها</p> | | ۶ |
| <p>ساعت چند است.</p>  <p>ساعت ۳ را با عقربه نشان بده</p> | | ۷ |
| <p>جمع و تفریق زیر را روی محور نشان بده.</p> <p>$۳ + ۴ + ۵ = \dots\dots$</p>  <p>$۱۴ - ۳ = \dots\dots$</p>  | | ۸ |

۹

تفریق های زیر را انجام بده.

$10 - 3 =$ 

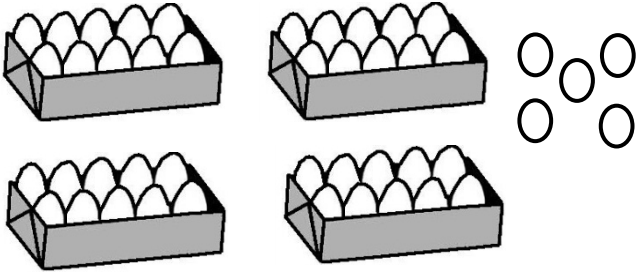
$9 - 5 =$ 

$12 - 7 =$ 

$8 - 3 =$ 

۱۰

جاهای خالی را با عدد مناسب کامل کن.



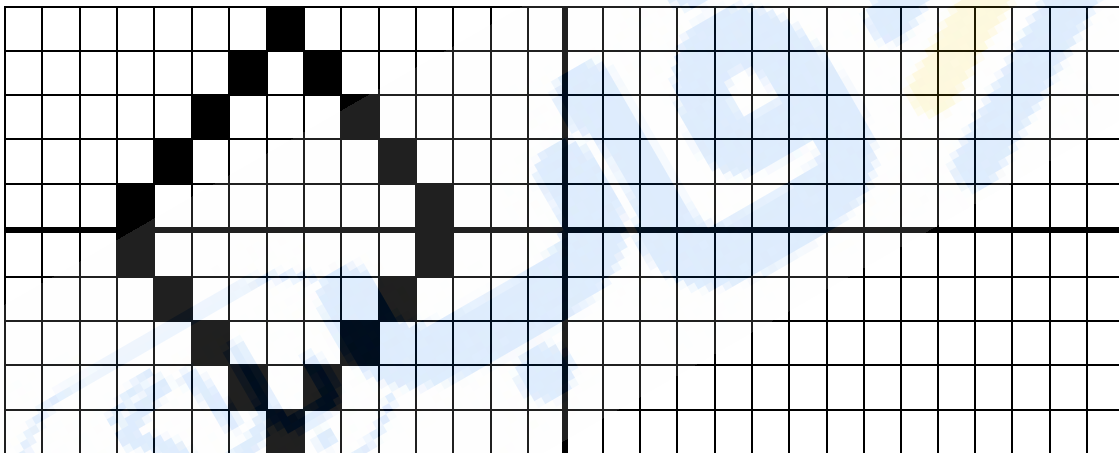
| | |
|-----|---------|
| یکی | ده تایی |
| | |

به رقم

به حروف

۱۱

نمونه الگو داده شده را در قرینه آن بکش.



۱۲

جدول سودوکو زیر را کامل کن.

| | | | | | | | | |
|---|---|---|---|---|---|---|---|---|
| ۶ | ۲ | ۹ | ۸ | ۳ | ۷ | ۱ | ۴ | ۵ |
| ۷ | ۸ | ۱ | ۴ | ۹ | ۵ | ۳ | ۲ | ۶ |
| ۴ | ۳ | | | ۶ | | | ۹ | ۷ |
| ۵ | ۷ | | | ۴ | | | ۸ | ۱ |
| ۹ | ۴ | ۶ | ۳ | ۱ | ۸ | ۷ | ۵ | ۲ |
| ۸ | ۱ | | | ۵ | | ۶ | ۳ | ۴ |
| ۲ | ۹ | | | ۸ | | | ۶ | ۳ |
| ۱ | ۶ | ۸ | ۵ | ۲ | ۳ | ۴ | ۷ | ۹ |
| ۳ | ۵ | ۴ | ۹ | ۷ | ۶ | ۲ | ۱ | ۸ |

..... بازخورد آموزگار :
